

--	--

103 年國中教育會考

社會科參考題本

請不要翻到次頁！

讀完本頁的說明，聽從監試委員的指示才開始作答！

※請先確認你的答案卡、准考證與座位號碼是否一致無誤。

請閱讀以下測驗作答說明：

測驗說明：

這是國中教育會考社會科題本，題本採雙面印刷，共 13 頁，有 63 題選擇題，每題都只有一個正確或最佳的答案。測驗時間從 08:40 到 09:50，共 70 分鐘。作答開始與結束請聽從監試委員的指示。

注意事項：

1. 所有試題均為四選一的選擇題，答錯不倒扣。
2. 試題中所附圖形，如有附上比例尺，以比例尺為依據作答；若無比例尺，則該圖形僅作為參考，不代表實際大小。
3. 可利用題本中空白部分計算，切勿在答案卡上計算。
4. 依試場規則規定，答案卡上不得書寫姓名座號，也不得做任何標記。故意汙損答案卡、損壞試題本，或在答案卡上顯示自己身分者，該科測驗不予計列等級。

作答方式：

請依照題意從四個選項中選出一個正確的答案，並用 2B 鉛筆在答案卡上相應的位置畫記，請務必將選項塗黑、塗滿。如果需要修改答案，請使用橡皮擦擦拭乾淨，重新塗黑答案。若答案為 B，則將Ⓐ ● Ⓒ Ⓓ 塗黑、塗滿。即：Ⓐ ● Ⓒ Ⓓ

以下為錯誤的畫記方式，可能導致電腦無法正確判讀。如：

- Ⓐ ● Ⓒ Ⓓ — 未將選項塗滿
- Ⓐ Ⓑ Ⓒ Ⓓ — 未將選項塗黑
- Ⓐ ● Ⓒ Ⓓ — 未擦拭乾淨
- Ⓐ ● Ⓑ Ⓒ Ⓓ — 塗出選項外
- Ⓐ ● ● Ⓒ Ⓓ — 同時塗兩個選項

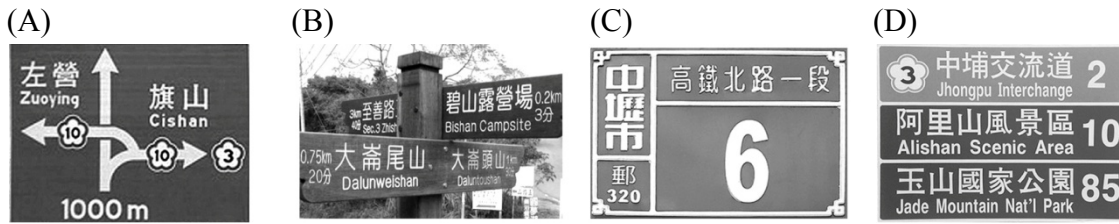
請聽到鈴（鐘）聲響後，於題本右上角方格內填寫准考證末兩碼，再翻頁作答

國立臺灣師範大學心理與教育測驗研究發展中心 聲明

1. 本參考題本，純作為練習參考之用。
2. 為使考生能充分了解國中教育會考之命題精神與題本格式，同意各界在非營利目的之條件下使用此參考題本。請勿隨意拼裝資料，導致誤解，採用時請註明出處，並書面通知本中心。

一、單題：(1~54 題)

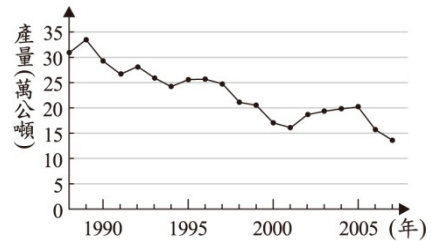
1. 下列四種生活中常見的路標，何者是採取絕對位置的標示方式？



2. 1990 到 2008 年期間，北韓在「全球飢餓指數」惡化的排名中位居第二。造成北韓糧產不足、常有饑荒的問題，除了政治制度的影響外，與下列何項自然因素關係最密切？

- (A) 颱風侵襲次數多
- (B) 生長季短、平原少
- (C) 火山活動與地震頻繁
- (D) 年雨量少於 500 毫米

3. 圖(一)為臺灣近年來近海漁業的漁獲量變化曲線圖，下列何者最適合用來解釋該曲線的變化趨勢？



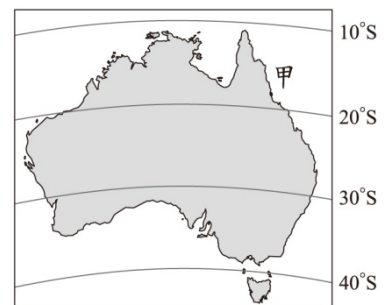
圖(一)

- (A) 漁業資源減少
- (B) 地層下陷嚴重
- (C) 漁業設備老舊
- (D) 經濟海域縮小

4. 臺灣某一品牌的有機稻米，栽培於中央山脈與海岸山脈間的肥沃土地，農民以純淨無污染的水灌溉，並採取不使用農藥及化學肥料的方式耕作，故孕育出此優質的好米。下列哪一個地區最可能是上述有機稻米的種植區？

- (A) 宜蘭
- (B) 南投
- (C) 屏東
- (D) 花蓮

5. 1770 年 5 月，英國探險家庫克船長駕船航行至圖(二)中的「甲」處，儘管小心翼翼，仍然發生了意外，還好僥倖逃過沉船的命運。不過，不是每一艘船都有這樣的好運氣，據估計曾有多達千艘的船隻在此處沉沒。上述所發生的意外最有可能是指下列何者？



圖(二)

- (A) 誤觸礁石
- (B) 撞擊冰山
- (C) 遭西風強襲
- (D) 毛利人攻擊

請翻頁繼續作答

6. 早期的阿拉伯人過著游牧生活，散居各處，沒有統一的政權。後來促使他們團結起來，迅速發展與擴張，在中世紀建立起輝煌的大帝國，其最主要的因素是什麼？
- (A)相同的宗教
(B)相同的血統
(C)共同的貨幣
(D)共同的語言
7. 「新港文書」是研究臺灣歷史發展的重要文獻，這批文獻的書寫文字曾在今臺南附近流傳一百多年。這種文字的起源為何？
- (A)是原住民參酌漢字改編創設而成的文字
(B)是日人為了教育原住民所簡化使用的文字
(C)是漢人來臺灣後融合土著方言所形成的文字
(D)是荷人用羅馬字母拼寫原住民語言而成的文字

8. 圖(三)是玲玲在書上看到的漫畫，這幅畫最可能是介紹下列哪一古文明？
- (A)波斯
(B)雅典
(C)蘇美
(D)埃及



圖(三)

9. 有一場研討會，會中討論到「甘地」與「林獻堂」兩位歷史人物，下列何者是他們二人重要事蹟的共同處？
- (A)策畫群眾起義，推翻殖民統治
(B)主張發展經濟，改善人民生活
(C)倡導民主思想，改變國家體制
(D)採取和平方式，爭取人民權利
10. 義芬在書中看到以下內容：「神助拳……只因鬼子鬧中原……天無雨，地焦旱，全是教堂止住天，神發怒，仙發怨……附著人體把拳傳……洋鬼子，盡除完，大清一統靖(平定)江山。」這些話語的出現與下列何者有關？
- (A)清初祕密結社眾多，假借宗教名義排外
(B)自強運動推行西化，激發傳統宗族群起抗清
(C)清末外力侵逼，民間仇外心理釀成義和團事變
(D)社會動盪不安，湘軍習武練拳以對抗太平天國

11. 小喬是十三歲的國一學生，在便利商店偷漫畫書，經店家發現交給警方後，被移送少年法院(庭)處理。在上述事件中，小喬最可能受到下列何種懲處？
- (A)有期徒刑
(B)科處罰金
(C)逕行罰鍰
(D)保護處分

12. 過去對於飲食的需求只要「吃飽就好」，其後漸漸崇尚「精緻美食」，而現代社會則朝注重清淡、簡樸的方向發展，進而促成健康飲食的風行。請問：上述飲食文化的改變是屬於何種層面的變遷？
- (A)社會制度 (B)風俗習慣
(C)價值理念 (D)生活器物

13. 阿榮無照駕駛、違規闖紅燈並撞傷學童，警察隨即到場並開單處罰，事後雙方和解不成，遭學童家長告上法院。表(一)是他此次事故所支出的費用，其中屬於民事責任的部分是多少元？

表(一)

項目	金額(元)
地方法院科處罰金	1,500
違反交通規則罰鍰	17,400
賠償被害人醫藥費	51,000

- (A) 17,400
(B) 51,000
(C) 52,500
(D) 68,400

14. 求職中的蓉蓉得到四個工作機會，她將這些工作的薪水加以比較後整理成表(二)。根據表中資訊判斷，霹靂光電的薪水及其機會成本各是多少元？

表(二)

公司名稱	薪水(元)	機會成本(元)
米奇科技	28,000	35,000
聯合公司	33,000	35,000
風城電子	30,000	35,000
霹靂光電	?	?

- (A) 薪水 33,000、機會成本 28,000
(B) 薪水 33,000、機會成本 35,000
(C) 薪水 35,000、機會成本 33,000
(D) 薪水 35,000、機會成本 30,000

15. 阿喬初識三位國內朋友，下列是問起年齡時，他們分別的回應：

阿虎：「今年的選舉我剛好可以投票。」

大雄：「我要等到明年才能合法去速食店打工。」

小香：「明天起我就須負《刑法》的完全責任。」

依我國法律規定，根據上述內容中的法定年齡判斷，三人的年齡由大到小排序為何？

- (A) 阿虎、大雄、小香
(B) 小香、大雄、阿虎
(C) 大雄、小香、阿虎
(D) 阿虎、小香、大雄

請翻頁繼續作答

16. 小強參加「中國地理知識」競賽活動，只要根據四個提示，答出正確答案即可得分。其中某題提示如圖(四)，小強應回答下列哪一地理區才可得分？

- (A) 東北平原 (B) 黃土高原
(C) 四川盆地 (D) 珠江三角洲



圖(四)

17. 中國山西省某城市曾被列為污染嚴重的城市。以下是某電視臺對該城市的報導：「長期以來，黑色的粉塵瀰漫在空中，嗆人口鼻；上午十點居然看不到太陽，雖然所有人都知道它就在上頭。水是棕黑色的，發出惡臭的氣味……。」根據上述報導，該城市的污染主要來自下列何者？

- (A) 沙塵暴 (B) 火山爆發
(C) 採煤與燃煤 (D) 石油開採與提煉

18. 圖(五)是南美洲部分地區的簡圖，圖中甲地較乙地人口密集、經濟繁榮，其主要的原由是下列何者？

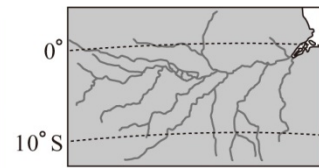
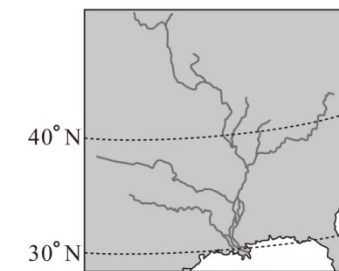
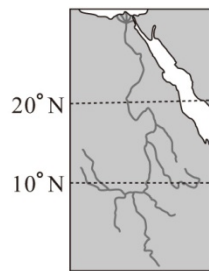
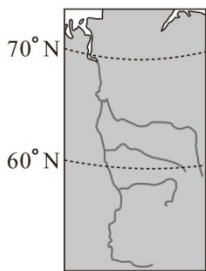
- (A) 交通較為便利
(B) 水源較為充足
(C) 礦產資源較多
(D) 氣候條件較佳



圖(五)

19. 圖(六)為黃河的示意圖，其中甲、乙二河段在初春之際，皆會因河段較上游結冰的河水較早融化，而河段較下游的河水仍呈現結冰狀態，導致河水漫溢河道。下列四條河流中，何者最容易發生類似的現象？


- (A) (B) (C) (D)



圖(六)

20. 圖(七)是阿拉伯半島及其鄰近地區的夜間衛星影像圖，人口聚集的地方，會呈現較光亮的顏色。圖中的甲區亮點甚為集中，其最初發展的良好條件最主要是下列何者？

- (A) 氣候溫暖溼潤
(B) 鐵路交通便利
(C) 灌溉農業發達
(D) 礦產資源豐富



圖(七)

21. 某國大使曾針對時局提出以下看法：「有那麼一天，塞爾維亞會引起歐洲的紛爭，……這國家受俄羅斯鼓動，令奧匈帝國頭痛。照現在這種危機持續下去，歐洲若能避開一場戰事，真的得靠上天保佑了。」後來歐洲還是因為塞國而發生了一場戰爭，這場戰爭最可能是下列何者？
- (A) 普法戰爭
 (B) 英法百年戰爭
 (C) 第一次世界大戰
 (D) 第二次世界大戰

22. 圖(八)是中國某一時代的情勢，由圖片內容判斷，該圖的主題最可能為下列何者？
- (A) 春秋的尊王攘夷
 (B) 漢初的和親政策
 (C) 北宋的國際關係
 (D) 明末的對外貿易



圖(八)

23. 1823 年，美國門羅總統發表重要的對外宣言，下列何者是此一宣言的主要內容？

- (A) 任何歐洲強權若企圖干預美洲國家事務，美國將視此為對美國安全的威脅。
 (B) 任何一州若仍蓄奴，將被視為反叛。所有的奴隸應當獲得並永享自由。
 (C) 十三州殖民地應當是自由而獨立的國家，各州與英帝國之間的從屬關係必須取消。
 (D) 日本與夏威夷之間的距離，證明這場攻擊是蓄意謀畫，我已下令採取一切手段進行防禦。

24. 采玲想像自己是二十一世紀的記者，穿梭時空來到三世紀初的曹操陣營採訪某位高級將軍，若根據史實判斷，下列哪一段最可能是這位將軍的談話內容？
- (A) 「由於領導正確，我軍逐步統一北方，下一步計畫是掃蕩南方的反抗勢力。」
 (B) 「我軍若能適時與蜀軍聯合，一起北伐，將有機會憑藉東南一角進占北方。」
 (C) 「為了復興漢室，在聯合孫吳且用計得宜的情形下，我軍打了漂亮的勝仗。」
 (D) 「我軍消滅東南的反叛政權後，天下終於重新統一，過去的紛擾已經落幕。」

25. 表(三)是二十世紀初臺灣稻米生產量的統計資料。下列何者是造成表中「甲」時段期間稻米產量變化的主要因素之一？

表(三)

年度	稻米生產量(萬公石)
1910	755
1920	873
1930	1,329
1938	1,770

甲 {

- (A) 臺灣蓬萊米培植成功
 (B) 「皇民化運動」的影響
 (C) 臺灣開港，刺激稻米外銷
 (D) 耕者有其田政策徹底落實

請翻頁繼續作答


26.圖(九)是宣導反賄選的海報,根據圖中內容判斷,關於賄選行為的處罰,與下列何者所應負起的法律責任類型相同?

- (A)拒絕償還積欠友人債務
- (B)打球不慎打破鄰居窗戶
- (C)無照駕駛違反交通法規
- (D)破壞橋樑導致公共危險

**檢舉賄選全民一起來
檢舉獎金最高1000萬元!**

賣票 處3年以下有期徒刑,得併科新臺幣15萬元以下罰金。

買票 處3年以上10年以下有期徒刑,得併科新臺幣100萬元以上1000萬元以下罰金。



圖(九)

27.圖(十)是一對父子的對話,根據他們的對話內容判斷,圖中的爸爸最可能是擔任下列哪一種公職人員?

- (A)新竹縣議員
- (B)大林鎮鎮長
- (C)高雄市市長
- (D)中華民國總統

我年紀大了,這個職位我也連任了七屆,該是你接手的時候了。

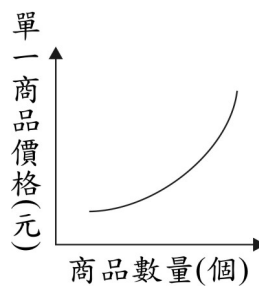
等我明年滿23歲,我一定登記參選代替爸爸繼續為民服務。



圖(十)

28.圖(十一)為某一經濟學概念的圖示,根據其內容判斷,下列何者最符合該圖的意涵?

- (A)天氣轉涼,商家進行冷氣促銷活動
- (B)電視機生產過剩,使產品價格下跌
- (C)蒜頭價格高時,農民種植較多蒜頭
- (D)颱風即將來襲,蔬果價格大幅上漲



圖(十一)

29.表(四)是甲、乙兩國的部分基本資料,若僅依照表中顯示的內容判斷,下列哪一項國家構成要素在甲、乙兩國是相等的?

- (A)人民
- (B)主權
- (C)政府
- (D)領土

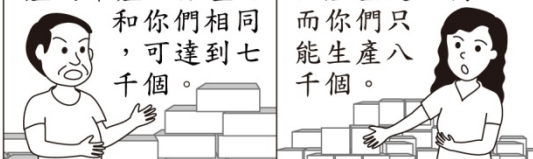
表(四)

項目	甲國	乙國
國民人數	25,061	1,246,872,000
軍隊人數	0	2,300,000
土地面積(平方哩)	24	3,705,400
聯合國大會票數	1	1

30.圖(十二)是二家工廠負責人的對話。若這二家工廠都可生產甲、乙二種產品,但每家工廠同時只能選擇其中一種進行生產,在不考量其他因素的情況下,由圖中內容判斷,下列關於生產甲產品的敘述何者正確?

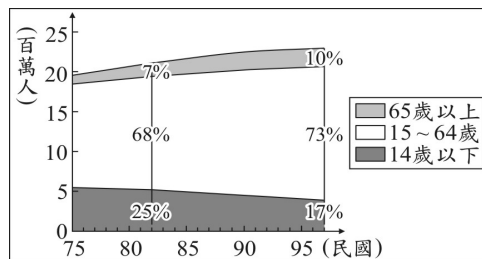
- (A)北海廠具有比較利益
- (B)南海廠具有比較利益
- (C)北海廠具有絕對利益
- (D)南海廠具有絕對利益

北海廠負責人	南海廠負責人
雖成立未滿一年,但我們每日所能生產的甲產品數量已和你們相同,可達到七千個。	但是在生產乙產品方面,我們每天的生產量達一萬個,而你們只能生產八千個。

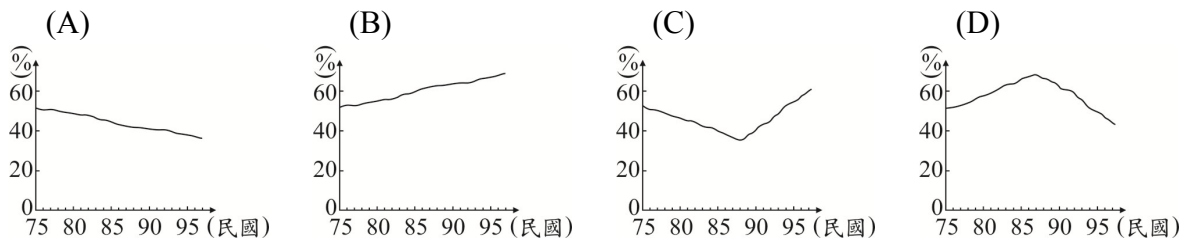


圖(十二)

31.圖(十三)為民國 75 至 97 年間，臺灣各年齡層的人口數和組成比例變遷圖，由圖中資訊推算，這段期間臺灣的扶養比變化情形應為下列何者？



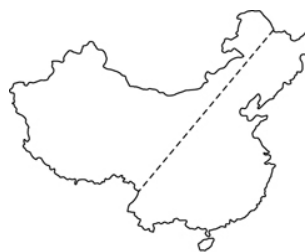
圖(十三)



32.中國因疆域遼闊，自然與人文景觀皆呈現多樣變化。表(五)中的甲、乙、丙、丁是根據不同的分類方式所畫分的四條分界線，其中何者的位置與圖(十四)中的虛線最不相符？

表(五)

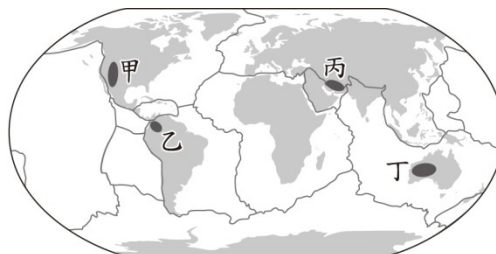
代號	項目
甲	東部經濟帶與中部經濟帶分界線
乙	人口稠密區與人口稀疏區分界線
丙	傳統農作區與傳統畜牧區分界線
丁	季風氣候區與其他氣候區分界線



圖(十四)

- (A)甲 (B)乙 (C)丙 (D)丁

33.南非高原、德干高原、巴西高原等地形區，具有陸塊形成時間久遠、地形相對平坦和金屬礦產資源豐富等特徵。圖(十五)是世界板塊分布圖，依據上述三區於圖中的分布位置推論，圖中何地也有相同特徵？



圖(十五)

- (A)甲 (B)乙
(C)丙 (D)丁

34.表(六)為慧文對臺灣某一史前文化的概略整理。從表中內容判斷，此一史前文化應為下列何者？

- (A)長濱文化
(B)卑南文化
(C)大坌坑文化
(D)十三行文化

表(六)

年代	距今 4500 ~ 6500 年
考古遺址	大多分布於西部河口與海岸
文化特徵	出土粗繩紋陶片、石斧等器物。推測居民以狩獵、漁撈、採集維生，可能種植根莖類作物。
重要意義	臺灣新石器時代早期文化的代表，在中國東南沿海也發現類型相似的文化。

35.民國 38 年國民政府來臺，在缺乏豐富天然資源的條件下，締造出世所矚目的臺灣經濟奇蹟。當時政府最先實施哪一方面的改革，奠定日後經濟發展的基礎？

- (A)國防 (B)土地
(C)貿易 (D)教育

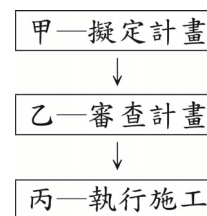
請翻頁繼續作答

36.阿英認為：「富人為了自己的利益，不斷剝削窮人，給他們很低的薪資，卻希望他們生產最多的產品。這種不合理的現象應該要靠公有共享，規定大家一起勞動才能獲得解決。」她主張的應是下列哪一種思想？

- (A)人文主義 (B)民族主義
(C)資本主義 (D)社會主義

37.平安市政府研擬了一份疏濬河道的計畫，希望以該市的經費，徹底解決每逢大雨便成災的問題。圖(十六)是處理的部分程序，其中「乙」屬於下列哪一機關的職權？

- (A)立法院 (B)行政院
(C)平安市政府 (D)平安市議會



圖(十六)

38.現代民主國家為落實權力分立的原則，各有不同的作法。我國將中央政府規畫成五院，其中某院除掌理各種訴訟審判之外，尚有懲戒違法失職公務人員的職權。由上述內容判斷，下列何者也屬該院的職權？

- (A)質詢中央政府官員
(B)掌理公務員退休事宜
(C)審理政黨違憲解散事項
(D)對政府行政機關提出糾正

39.老師請同學就所蒐集的資料進行報告，圖(十七)是中逸整理出報紙的部分標題。根據內容判斷，他應是以下列何者為報告主題？

- (A)全球化 (B)區域性
(C)永續發展 (D)國際分工

- 法郎貶值影響日圓價格
- 歐洲企業倒閉引發東亞金融風暴
- 蒙古草原沙塵暴，造成臺灣空氣汙染

圖(十七)

40.近數十年來，巴西積極開發境內的亞馬孫河流域，卻屢遭各國批評。下列何者最可能是各國反對亞馬孫河流域過度開發的主要原因之一？

- (A)森林內蘊藏物種繁多，牽繫著地球的生態平衡
(B)擁有廣大的針葉林，是全球木材資源的主要供應地
(C)下游地區有馬雅文明的遺址，是人類學研究的重要題材
(D)流域面積廣大，支流眾多，是南美國際貿易重要的航運路線

41.圖(十八)為鹿特丹到舊金山的二條海運航線，其中甲航線為目前的航線，而距離較短的乙航線經過北極海海域，以往多處於冰封狀態，但隨著全球暖化，該航線未來可能全年皆可通行。若乙航線暢通後，將使哪一個國家來自船隻通行費的收入大為減少？

- (A)埃及 (B)新加坡
(C)俄羅斯 (D)巴拿馬

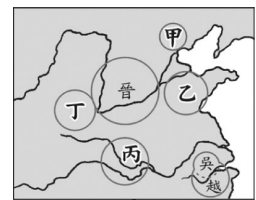


—甲航線乙航線

圖(十八)

- 42.人口統計資料，如出生、死亡、移入、移出等，皆以戶籍登記所在地為依據。2001至2008年6月期間，只有在金馬地區設籍六個月以上之人民，才可依小三通模式來往兩岸。金馬地區於2001年時，最可能因上述政策而明顯呈現下列哪一種人口數據變化？
- (A)人口密度下降
 (B)社會增加率增加
 (C)自然增加率增加
 (D)外籍配偶人數減少
- 43.企業為了降低生產成本，追求最高利潤，在選擇設廠地點時，通常會考量原料、動力、勞工、市場等區位條件。下列選項中，企業設廠主要考量的區位條件，何者與其他三者差異最大？
- (A)臺灣在民國五〇年代設立加工出口區，發展紡織、電子組裝等加工業
 (B)中國於沿海地區設立經濟特區，吸引外商前來投資玩具、製鞋等工業
 (C)日本於1980年代，產業開始外移，家電公司紛紛至東南亞設立工廠
 (D)委內瑞拉為石油輸出國家組織會員國，有不少外商前往投資石化工業

- 44.清朝統治時期，臺灣興築許多大規模的水圳，如：鳳山曹公圳、彰化八堡圳、臺北瑠公圳等。當時修築水圳的主要原因為何？
- (A)地層下陷嚴重，舊有河川枯竭
 (B)土地不當開發，水源遭受汙染
 (C)工業用水不足，提供穩定水源
 (D)擴大灌溉面積，增加農業產量



- 45.圖(十九)是中國史上某一時期政治局勢的轉變過程，此情勢發展到最後是被圖中哪一國家所統一？
- (A)甲
 (B)乙
 (C)丙
 (D)丁



圖(十九)

- 46.丹丹利用暑假遊歷中國各地，他在陝西參觀半坡遺址，在山東看到龍山遺址，在浙江尋訪河姆渡遺址。由這些遺址的分布狀況及其內容判斷，中國史前文化具有下列何種特色？
- (A)多元發展
 (B)東西融合
 (C)一脈相承
 (D)南北對立
- 47.小穎暑假參加海外遊學團，在新生聚會上，同學們輪流介紹自己的國家，然而，下列哪一位同學介紹的內容與事實不符？
- (A)印度麗塔：「佛教文化起源於我的家鄉。」
 (B)美國凱文：「內閣制度最先出現在我的國家。」
 (C)印尼渥曼：「我的國家位在熱帶地區，氣候炎熱。」
 (D)法國艾薇：「我的家鄉位在歐洲西部，靠近大西洋。」

請翻頁繼續作答

48.為保護野生動物、維護物種多樣性與自然生態之平衡，我國立法對於野生動物的保育做出規範。但原住民族基於傳統祭祀慶典，經主管機關同意後，可獵捕、宰殺野生動物。上述特別許可原住民族行為的規定，其理由最可能是下列何者？

- (A)保障原住民的環境權
- (B)尊重不同族群的文化
- (C)維持自然生態的平衡
- (D)確保生物種類的多樣

49.表(七)為我國部分年度的政府統計數據。根據表中內容判斷，下列何者最可能是造成表中數據大幅變化的共同原因？

- (A)提供多元入學管道
- (B)鼓勵增加生育數量
- (C)培養終身學習觀念
- (D)延長義務教育年限

表(七)

年別 (西元)	國小畢業生 升學率(%)	國中學生 人數(人)
1956	47.75	133,687
1961	53.79	252,107
1966	59.04	456,090
1971	80.85	847,660

50.近 20 年來，由於離婚率提高、家庭人數減少等因素，促使家庭型態出現轉變。上述家庭型態的轉變，最可能是指下列何種現象？

- (A)性別比例失衡
- (B)家庭功能增強
- (C)單親家戶漸多
- (D)適婚人口減少

51.表(八)是四個內閣制國家的政黨政治運作情形，依據表中資料推斷，哪一個國家的政府最可能採行聯合政府的型態？

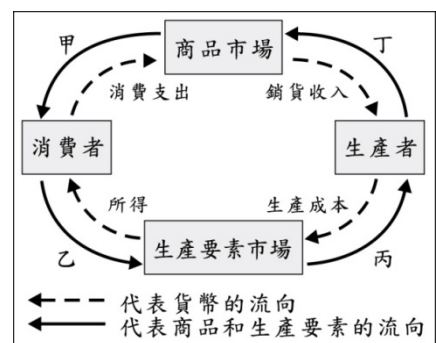
- (A)甲
- (B)乙
- (C)丙
- (D)丁

表(八)

國家	政黨數	國會席次比例	說明
甲	2	A黨98%、B黨2%	A黨長期執政
乙	6	C黨55%、D黨45%	C黨與D黨輪流執政
丙	108	E黨30%、F黨28%、 G黨27%、H黨15%	無一政黨過半
丁	12	I黨85%、J黨9%、 其他6%	I黨長期執政

52.某國的老年人口比例為全球最高，幼年人口比例卻是最低，這將會造成未來投入勞動的壯年人口不足。上述壯年人口的變化，最可能先使圖(二十)中甲、乙、丙、丁哪一個部分出現短缺？

- (A)甲
- (B)乙
- (C)丙
- (D)丁



圖(二十)

53. 「學校師生要向日本天皇及當時在位的滿皇帝遙拜，唱國歌，背誦溥儀的詔書，且學生必須學習日語，並被灌輸『日滿一體』的思想。」上述情況最可能發生於下列何時何地？
- (A)1915 年的臺北 (B)1920 年的香港
 (C)1940 年的瀋陽 (D)1945 年的重慶
54. 「這個地區早期被稱為 Gangaridai，意謂『恆河位於土地的心臟地帶』。雖然現在當地居民的主要宗教信仰，已經由印度教轉變為伊斯蘭教，也不再視恆河為聖河，但是河水仍然影響著人們的衣食住行。」上述地區的範圍應約略等於現今哪一國家？
- (A)印度 (B)孟加拉
 (C)巴基斯坦 (D)斯里蘭卡

二、題組：(55~63 題)

閱讀下列選文，回答第 55 至 57 題：

傳統上，用來釀造葡萄酒的葡萄，其產區主要分布在法國、西班牙、義大利、澳洲、美國等國之地中海型氣候區，夏末秋初為採收的季節。小曼今年在臺灣購買了一瓶進口的葡萄酒，酒瓶上的中文標籤如圖(二十一)。她在購買時發現，與十幾年前相比，現在的選擇性更多，售價也比較便宜，這是由於臺灣及葡萄酒產國加入某一國際組織後，葡萄酒產國的生產及市場規模擴大，且葡萄酒輸入臺灣時的關稅降低所導致的結果。



圖(二十一)

55. 根據葡萄採收的季節及標籤提供的訊息判斷，小曼買的葡萄酒，其葡萄產區最可能位在下
列何國？
- (A)法國 (B)美國
 (C)澳洲 (D)義大利
56. 標籤上警語的內容，符合我國何項法律的規定？
- (A)《民法》
 (B)《刑法》
 (C)《社會秩序維護法》
 (D)《兒童及少年福利法》
57. 上文中葡萄酒產國加入的國際組織是指下列何者？
- (A)聯合國
 (B)歐洲聯盟
 (C)世界貿易組織
 (D)亞太經濟合作會議

請翻頁繼續作答

閱讀下列選文，回答第 58 至 60 題：

「海盜」是指出沒於海洋，憑藉暴力威脅等手段，搶劫過往船隻財物的歹徒。他們的存在對海運安全構成極大威脅，是國際間相當令人頭痛的問題。圖(二十二)是某雜誌報導 2004 年 1 月到 9 月海盜最常出沒的區域圖，其中「X」代表該區曾發生海盜攻擊事件的地點。



圖(二十二)

- 58.從圖中資料判斷海盜攻擊事件發生最頻繁的地區，與該地區哪一項特徵最有關係？
- (A)峽灣地形發達
 - (B)寒暖流交會帶
 - (C)位居交通要道
 - (D)年降雨量充沛
- 59.歷史上，有一位人物航經此區域時剿平當時為亂的海盜，提高了國家的聲望，奠定日後華僑在此地區發展的基礎。這位人物應是下列哪一位？
- (A)張騫
 - (B)鄭經
 - (C)施琅
 - (D)鄭和
- 60.從領海主權的立場及海盜出沒的頻率來考量，下列哪些國家最需要透過國際合作打擊出沒在此地區的海盜？
- (A)美國、日本
 - (B)荷蘭、西班牙
 - (C)越南、泰國、菲律賓
 - (D)新加坡、印尼、馬來西亞

閱讀下列選文，回答第 61 至 63 題：

小文去澎湖旅行三天，每天都在日記中寫下當天的見聞，其部分內容如表(九)：

表(九)

8 月 11 日	……到達澎湖後，先到叔叔開的土產店拜訪。聽叔叔說他跟原料商有些契約上的金錢糾紛，叔叔擔心貨品不能依約定時間送到，會對生意造成很大的影響，我也跟著擔心起來。
8 月 12 日	……石滬原是捕魚的陷阱，雖然現在這種捕魚方式已日漸沒落，但雙心石滬讓我們看到了它全新的價值，它不僅仍能為漁民帶來漁獲，還意外地為附近商家帶來觀光人潮。
8 月 13 日	……旅程的最後一站，壯麗的玄武岩地形景觀讓人讚嘆不已，能將這天然藝術品的影像刻印在腦海中，更讓我有不虛此行的感覺。

61. 小文的叔叔可先採用下列何種方式處理他所遇到的糾紛？
- (A) 向調解委員會聲請調解
 - (B) 向高等法院提起民事訴訟
 - (C) 向公平交易委員會提出訴願
 - (D) 向高等行政法院提起行政訴訟
62. 表中關於雙心石滬的敘述，與下列何者所呈現的經濟學概念最相似？
- (A) 阿凡種樹防風，除保護農作還能綠化社區環境
 - (B) 相較於南投縣，澎湖縣更適合從事海產加工業
 - (C) 若行程只有一天，去了七美嶼就不能去吉貝嶼
 - (D) 為維護沙灘的整潔，政府應向遊客徵收清潔費
63. 旅程最後一站所見到的景觀，其地形成因與下列何者最相似？
- (A) 綠島
 - (B) 琉球嶼
 - (C) 東沙島
 - (D) 金門列島