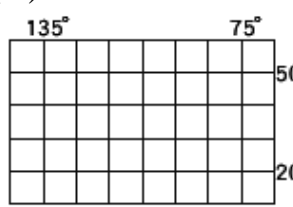
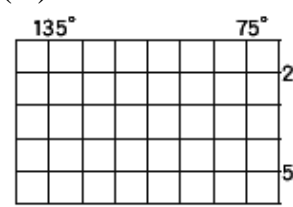
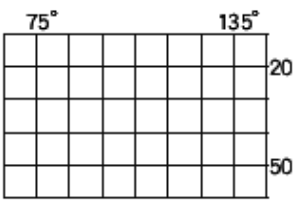
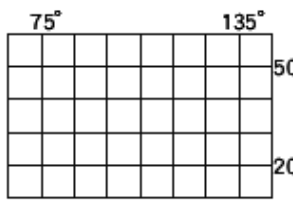



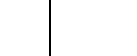


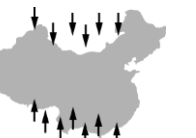

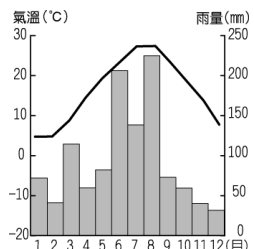


桃園縣立楊明國中105學年度第一學期八年級地理科補考題庫

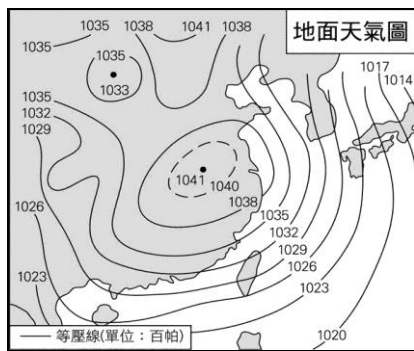
一、 單選題：

- () 在全球緯度劃分帶中，中國領土絕大部分位於溫帶與副熱帶氣候區。請問：上述兩種氣候區位於哪兩條緯線間？
(A) 23.5°N ~ 23.5°S
(B) 23.5°N ~ 66.5°N
(C) 0° ~ 23.5°N
(D) 0° ~ 66.5°N。
- () 中國東邊面臨哪個海洋？
(A) 印度洋 (B) 北極海
(C) 大西洋 (D) 太平洋。
- () 下列哪個行政區為中國的自治區之一？
(A) 西藏 (B) 香港 (C) 廣東 (D) 上海。
- () 中國以何區的時間做為全國統一的標準時間？
(A) 北京市 (B) 天津市
(C) 上海市 (D) 重慶市。
- () 若要繪製中國的地形圖，應選下列哪張經緯線圖？
(A)  (B) 
(C)  (D) 
- () 下列關於中國自治區的敘述，何者正確？
(A) 因政治、經濟地位重要而設立
(B) 為保障少數民族的權益與文化而設立
(C) 對外具有主權，可代表國家做決定
(D) 每個自治區使用的錢幣皆不同。
- () 中國第三級階梯的山脈以何種走向為主？
(A)  (B)  (C)  (D) 
- () 香港回歸中國前，由哪一個國家管轄？
(A) 英國 (B) 法國 (C) 德國 (D) 美國。
- () 亞洲的季風氣候區，風向隨季節的改變，主要是受到下列何種因素的影響？
(A) 海洋吸熱散熱較快
(B) 陸地吸熱散熱較慢
(C) 大範圍海陸性質差異
(D) 黑潮、親潮沿岸流流經。

- () 「喜馬拉雅以及_____高原被冰雪覆蓋，佔據了中亞和東亞廣大區域，成為極地地區之外地球上最大的冰雪地區，為自己贏得了「第三極」的暱稱。」上文中所指的高原最可能是下列何者？
(A) 青藏高原 (B) 黃土高原
(C) 內蒙古高原 (D) 雲貴高原。
- () 芮芮打算以尺寸相同的樂高積木拼出一幅巨大的世界地圖，面積愈大的國家所需要的樂高積木愈多。請問：下列哪一國使用的樂高積木數量會最多？
(A) 越南 (B) 中國 (C) 蒙古 (D) 印度。
- () 中國冬季時南北溫差大，主要是受下列哪項因素影響？
(A) 地形 (B) 緯度
(C) 季風 (D) 距海遠近。
- () 一九七〇年代，中國曾對人口問題施行計畫生育政策，其主要目的為何？
(A) 降低總人口數
(B) 減緩人口成長速度
(C) 提高婦女生育率
(D) 提升人口素質。
- () 中國族群最多元、民族風情最濃的是下列哪個行政區？
(A) 遼寧省 (B) 四川省
(C) 雲南省 (D) 江蘇省。
- () 中國最主要的降雨季節受某盛行風的影響。下列哪張圖最符合此盛行風的風向？
(A)  (B) 
(C)  (D) 
- () 根據下圖資料判斷，圖中所呈現的最可能為下列哪一種氣候類型？

(A) 高地氣候
(B) 溫帶草原氣候
(C) 熱帶季風氣候
(D) 副熱帶季風氣候。

桃園縣立楊明國中105學年度第一學期八年級地理科補考題庫

17. () 下圖是東亞地區的地面天氣圖，根據圖上氣壓資料判斷此時最可能是哪一個季節？

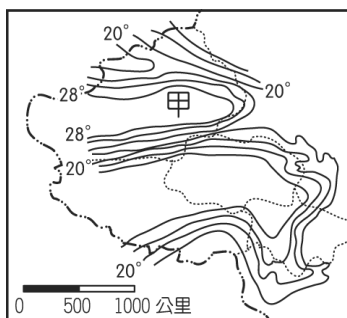


- (A)春 (B)夏 (C)秋 (D)冬。

18. () 某一民族常用：「一年無四季，一日見四季」來形容當地氣候，可得知當地氣候特色為下列何者？

- (A)日溫差大，年溫差小
(B)日溫差大，年溫差大
(C)日溫差小，年溫差大
(D)日溫差小，年溫差小。

19. () 湘湘到了下圖中的甲處，導遊介紹當地即為《西遊記》中的火焰山，氣候條件極為炎熱難耐。請問：影響該地氣候最主要的因素可能為下列何者？



- (A)火山地熱 (B)焚風現象
(C)盆地封閉 (D)地勢高聳。

20. () 「iPhone6S到底賣的好不好？據蘋果公司給出的數字，自105年9月25日開賣短短三天便突破了1300萬台，比104年的1000萬台略勝一籌。」從上面報導顯示中國對企業具有下列何種優勢？

- (A)市場廣大 (B)工資低廉
(C)原料充足 (D)技術進步。

21. () 近年中國因為對原物料的需求增加，原料供不應求，部分原料仰賴進口，故設廠於東部沿海的主要原因為何？

- (A)廠房成本下降 (B)產業技術升級
(C)港口運輸便利 (D)當地勞力便宜。

22. () 下列何者是三北防護林種植的主要目的？

- (A)防止沙塵暴 (B)減少紫外線
(C)防海水倒灌 (D)增加農糧產。

23. () 台灣企業到中國設廠，早期多為成衣、電

子、製鞋等產業，現在則以家電、電腦等相關產品為主，甚至餐飲業也紛紛到對岸開設分店。請問：從早期到現在，吸引企業至中國設廠的區位優勢有何轉變？

- (A)由交通至市場 (B)由技術至勞工
(C)由原料至技術 (D)由勞工至市場。

24. () 下圖中的甲區不僅水資源不足，且因超限利用而環境問題頻傳。請問：造成此區超限利用的主要原因為何？



- (A)環境負載力低 (B)人口密集
(C)地勢起伏大 (D)氣候變遷。

25. () 下圖是某種作物的分布圖，下列有關該作物的描述何者正確？



- (A)收成時忌下雨
(B)可做成饅頭、麵包等食物
(C)生長於排水良好的丘陵地
(D)適合生長於溫暖多雨的環境。

26. () 中國面積廣大，氣候多樣，南、北區域受到生長季長短的差異，收穫次數不同。請問：哪一個地區的收穫次數最多，較利於農業的發展？

- (A)華北平原 (B)遼東半島
(C)珠江三角洲 (D)東北平原。

27. () 下列何者不是中國成為世界工廠後，對全球的經濟或生態環境產生的影響？

- (A)勞力密集型產業外移至中國，原國家失業問題嚴重
(B)各國可見中國製造的低價商品
(C)已開發國家的高科技產業備受威脅，產值有衰退的趨勢
(D)二氧化碳及懸浮微粒大量排放，影響鄰近國家的空氣品質。

桃園縣立楊明國中105學年度第一學期八年級地理科補考題庫

28. () 中國的水資源分布在空間上具有極大的差異性，下列哪一個環境條件下，水資源最為缺乏？
(A)冬季環渤海經濟圈
(B)冬季珠三角經濟圈
(C)冬季長三角經濟圈
(D)夏季環渤海經濟圈。
29. () 若河川跨越國界，水資源的使用便成為與鄰國之間的重要課題。請問：下列哪一條河川沒有跨國界問題？
(A)黑龍江 (B)瀾滄江
(C)塔里木河 (D)雅魯藏布江。
30. () 乾燥氣候區水資源不足的主要原因為何？
(A)人口密集 (B)降水量少
(C)不利蓄水 (D)汙染嚴重。