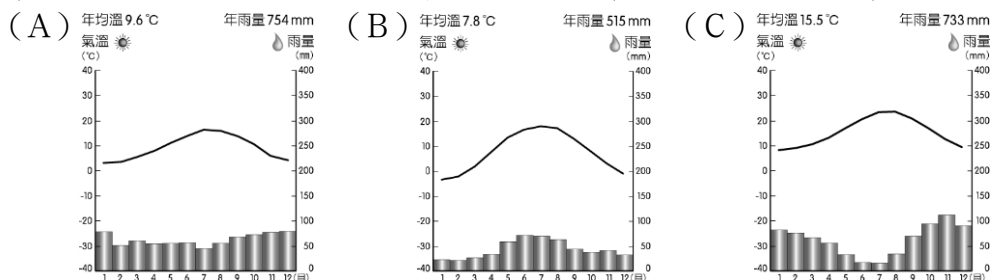


地理科 九年級上學期補考題庫

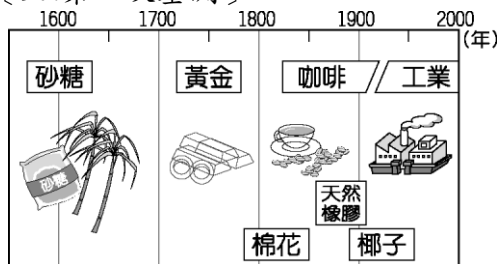
一、單一選擇題

- ( C ) 16 世紀以來，中南美洲的語言、文化受拉丁文化影響，因此又被稱為「拉丁美洲」。請問：巴西曾經是何國的殖民地？  
(A) 法國 (B) 西班牙 (C) 葡萄牙 (D) 義大利。
- ( A ) 南歐居民自古便擅長海上活動，西班牙和葡萄牙都曾是海權時代的強國。請問：南歐航運發達的有利條件為何？  
(A) 海岸曲折多港灣 (B) 地形崎嶇多山脈  
(C) 夏乾冬雨的氣候 (D) 耕地廣物產豐饒。
- ( D ) 「北臨波羅的海，東南濱黑海，位居東、西往來要衝，戰略地位重要。」上述是指歐洲哪個區域？  
(A) 南歐 (B) 西歐 (C) 北歐 (D) 東歐。
- ( A ) 東歐的巴爾幹半島國家數目眾多，族群複雜、政治紛擾。造成此現象與下列哪個因素最相關？  
(A) 地形崎嶇 (B) 缺乏天然國界 (C) 石油資源豐富 (D) 水資源的爭奪。
- ( B ) 萊因河與多瑙河皆流經歐洲許多國家，但多瑙河航運沒有萊因河發達，與多瑙河哪項因素有關？  
(A) 年雨量變率較大 (B) 流向不佳注入黑海  
(C) 沿岸國家經濟落後 (D) 坡陡流急不利航運。
- ( C ) 俄羅斯因「先天不良，後天失調」，糧食不足自給。請問：先天、後天因素分別為何？  
(A) 永凍土遍布、曾實施市場經濟 (B) 地形崎嶇、曾實施計畫經濟  
(C) 氣候乾冷、曾實施計畫經濟 (D) 土壤貧瘠、曾實施市場經濟。
- ( A ) 俄羅斯的陸運運輸以鐵路為主，此與俄羅斯哪項特色最相關？  
(A) 面積廣大 (B) 地形複雜 (C) 多位於高緯度 (D) 國土兩面環海。
- ( B ) 巴拿馬運河是一條連接太平洋與哪個海洋的運河？  
(A) 印度洋 (B) 大西洋 (C) 北極海 (D) 地中海。
- ( A ) 安地斯山北段的山間盆地，是人口、都市集中的精華區，其原因為何？  
(A) 地處低緯 (B) 地勢低平 (C) 適合發展山牧季移 (D) 地勢險要，易守難攻。
- ( C ) 聖保羅、布宜諾斯艾利斯到處可見擁擠的人潮及貧民區，和世界其他大都市欣欣向榮的景象不同。同樣都市化程度高，景象卻不同，其原因為何？  
(A) 政府都市計畫不夠周全 (B) 城市內湧入大批北美洲移民  
(C) 鄉村經濟蕭條，推力太強所致 (D) 都市工商業發展所造成的拉力。
- ( B ) 下列哪個氣候圖，比較接近東歐的氣候？(本題只有三個選項)



- ( C ) 俄羅斯國土跨越哪兩大洲？  
(A) 歐洲、美洲 (B) 亞洲、非洲 (C) 歐洲、亞洲 (D) 北美洲、大洋洲。

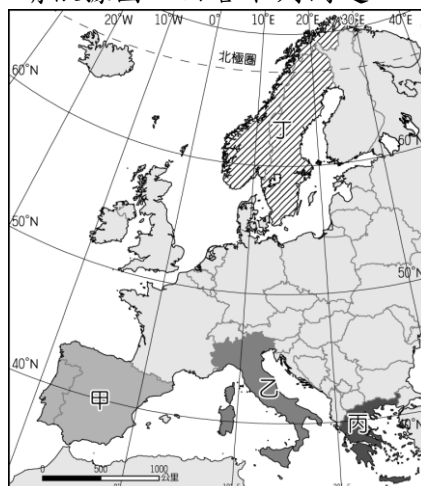
13. ( B )小恩到西伯利亞旅遊，搭乘西伯利亞鐵路，沿途所見的地形景觀，依序是平原、高原、山地。若依西伯利亞的地形分布，其行程安排最可能為下列何者？  
 (A)從東部至西部 (B)從西部至東部 (C)從南部至北部 (D)從北部至南部。
14. ( B )小原來到了南美洲，想探尋印第安古文明的足跡，請告訴他哪種作物是當時重要的作物，也是拉丁美洲居民主要的糧食？  
 (A)可可 (B)玉米 (C)小麥 (D)稻米。
15. ( A )中南美洲族群複雜，其中黑色人種多在 16～19 世紀由非洲移民至此地。請問：造成移民的主要因素為何？  
 (A)奴隸買賣 (B)流放罪犯 (C)躲避戰爭逃亡 (D)尋找工作機會。
16. ( A )附圖是某國不同時期的出口商品示意圖。根據圖中各種作物的生長環境判斷，該國最有可能為下列何者？〔97.第二次基測〕



- (A)巴西 (B)澳洲 (C)美國 (D)印度。
17. ( C )小茵計畫到中南美洲自助旅行，她最需要加強哪種語言？  
 (A)英語 (B)法語 (C)西班牙語 (D)印第安語。
18. ( C )15 世紀時哥倫布為了尋找通往亞洲的新航線，橫渡大西洋後抵達美洲，哥倫布以為到了印度，便將該地命名為「西印度群島」。請問：「西印度群島」位於哪個海域？  
 (A)愛琴海 (B)地中海 (C)加勒比海 (D)波羅的海。
19. ( A )巴拿馬運河的主要貢獻，下列何者正確？  
 (A)縮短美洲東西岸之間的航程 (B)提供北美洲民生用水的需求  
 (C)便利歐洲與美洲的交通往來 (D)替巴拿馬賺取微薄的通行費。
20. ( A )中南美洲大部分國家習慣種植單一作物，其主要原因為何？  
 (A)受歐洲殖民影響 (B)受限於地形、氣候  
 (C)大規模種植，利潤較高 (D)採單一作物，利於精緻發展。

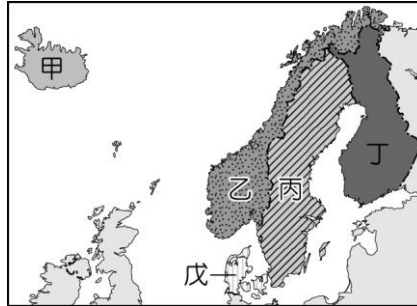
## 二、題組

1. 附圖為歐洲主要半島分布圖，請依據圖，回答下列問題：



- (C) (1) 圖中的石灰岩地形遍布，成為當地的區域特色。請問：此種地形位於哪一個半島上？ (A) 甲 (B) 乙 (C) 丙 (D) 丁。
- (C) (2) 丁區出海方便，航海活動頻繁的主要原因？ (A) 多沙灘、沙洲 (B) 多瀉湖、溼地 (C) 多峽灣港口 (D) 多平直岩岸。
- (D) (3) 位在乙半島南部的西西里島，泉水自海岸邊的礁石湧出，形成位於海裡的露天溫泉浴場。請問：海底溫泉的成因最可能是下列何者？ (A) 珊瑚礁廣布 (B) 大陸棚廣大 (C) 北大西洋暖流流經 (D) 位於板塊接觸帶上。

2. 附圖為北歐簡圖，請依據圖，回答下列問題：



- (B) (1) 哪一個國家以深邃壯觀的峽灣海岸地形著名？ (A) 甲 (B) 乙 (C) 丙 (D) 丁。
- (D) (2) 「千湖之國」是指哪一國家？ (A) 甲 (B) 乙 (C) 丙 (D) 丁。
- (B) (3) 擁有豐富的鐵礦，是北歐工業最發達的國家？ (A) 乙 (B) 丙 (C) 丁 (D) 戊。
- (D) (4) 畜牧業發達，有「歐洲牧場」之稱的是哪一國家？ (A) 乙 (B) 丙 (C) 丁 (D) 戊。

3. 附圖為北美洲簡圖，請依據圖，回答下列問題：



- (C) (1) 乙區主要是由河川沖積的平原區，南側有世界上最大的三角洲。請問：此三角洲是哪條河川沖積而成？ (A) 育空河 (B) 聖羅倫斯河 (C) 密士失必河 (D) 科羅拉多河。
- (C) (2) 丙區是世界上最大的淡水湖群。請問：此湖群形成主要原因為何？ (A) 河流侵蝕 (B) 斷層陷落 (C) 冰河侵蝕 (D) 人工湖泊。

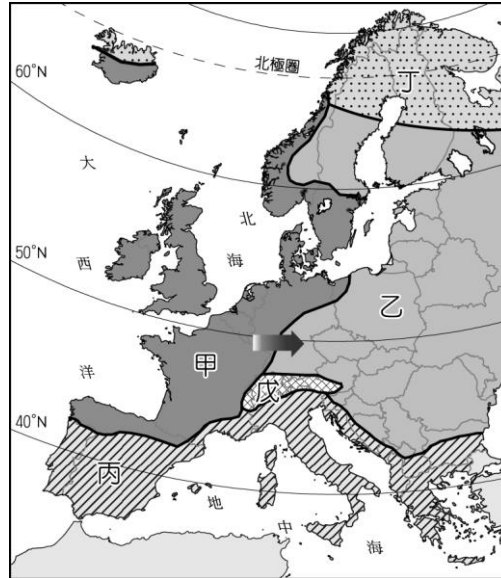
(D)(3) 哪一地形區地塊古老，蘊藏豐富礦產，是北美洲傳統工業區？

(A)甲 (B)乙 (C)丙 (D)丁。

(A)(4) 美國境內哪一個地區位於環太平洋火山地震帶上，因此容易出現地震活動，常造成生命財產的損失？

(A)甲 (B)乙 (C)丙 (D)丁。

4. 附圖為歐洲氣候分布圖，請依據圖，回答下列問題：



(A)(1) 歐洲各地區的氣候差異和其雨量的分布關係甚大，請問：圖中哪一個地區的降雨量最多？

(A)甲 (B)乙 (C)丙 (D)丁。

(B)(2) 承第(1)題，該地區的降雨量分布情況，主要受到下列哪一風向的影響最為明顯？

(A)東風 (B)西風 (C)南風 (D)北風。

(A)(3) 沿著圖中箭頭的方向前進，所感受的氣候變化與下列何者最相符？

(A)年溫差漸大 (B)年雨量漸多 (C)年均溫漸高 (D)日均溫漸高。